

SOMMER



MATEMATIK








NAVN:

KLASSE:

Tæl antallet




Skriv antallet

						
_____	_____	_____	_____	_____	_____	_____



Find vej til isen

Start her



Find 5 fejl

Original

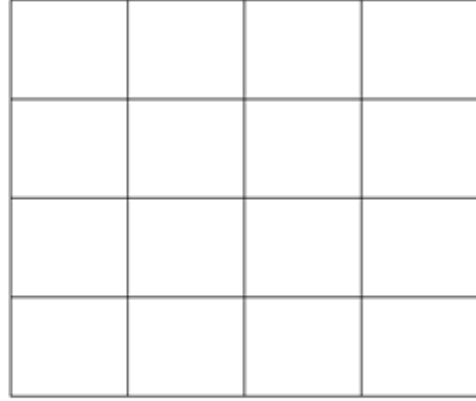
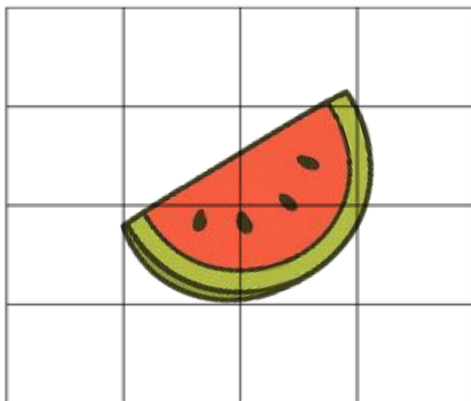
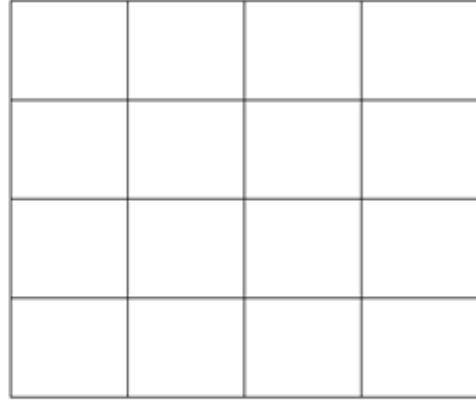
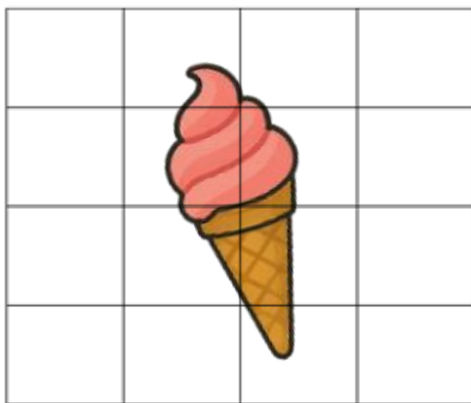
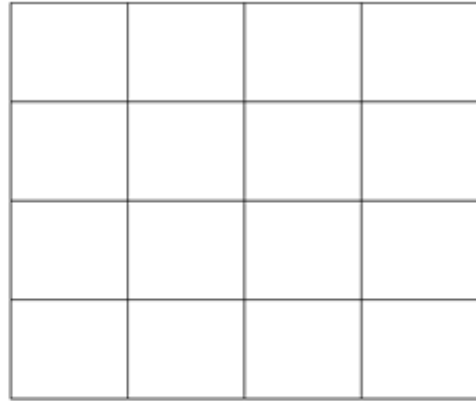



Kopi



Spejl de 3 tegninger

Tegn her









Lav plus-stykkerne

Skriv resultatet

 +  = _____

 +  = _____



 +  = _____

 +  = _____

 +  = _____



 +  = _____

 +  = _____









 +  = _____

 +  = _____

 +  = _____

 +  = _____

 +  = _____

							
1	2	3	4	5	6	7	8



Læs og svar

Liva har 5 jordbær. Hun plukker 3 mere.

Hvor mange har hun nu?

Svar: _____

 Svar her



Mikkel har 10 is. Han spiser 4.

Hvor mange is har han tilbage?

Svar: _____



På stranden er der 3 børn, der bader, og 4 børn, der leger i sandet.

Hvor mange børn er der i alt?

Svar: _____



En vandmelon koster 6 kr. Hvor meget koster 2 vandmeloner?

Svar: _____ kr.



Ida har 20 muslingskaller. Hun giver 7 til sin ven.

Hvor mange har hun tilbage?

Svar: _____









Farvelæg børnene



Farvelæg dette antal



					
3	5	6	2	4	1





Lav minus-stykkerne

Skriv resultatet

 -  =

 -  =

 -  =

 -  =



 -  =

 -  =

 -  =









 -  =

 -  =

 -  =

 -  =

 -  =

							
1	2	3	4	5	6	7	8





Farvelæg tegningen



Farvelæg her



Tegn disse 4 ting

En badebold

En sommerfugl

Et vandpistol

En søstjerne

Tegn her



Læs og svar

Tobias hopper i sjippetov 15 gange. Hans søster hopper 10 gange.

Hvor mange gange hopper de tilsammen?

Svar: _____



Der sidder 6 sommerfugle på en badebro. 2 flyver væk.

Hvor mange sommerfugle er der tilbage?

Svar: _____



Der er 3 krabber i spanden. Du har 4 spande med krabber.

Hvor mange krabber har du i alt?

Svar: _____



Julie vil købe 3 is. Hver is koster 5 kr.

Hvor mange penge skal hun bruge i alt?

Svar: _____ kr.



En parasol har 4 striber.

Hvor mange striber har 3 parasoller i alt?

Svar: _____





Tegn tegningen færdig



Tegn og farvelæg 





Tegn børnene færdige


Tegn børnene



Tegn drengen



Tegn drengen her



Farvelæg tegningen

